

উচ্চতর গণিত (সূত্রাবলী)

দ্বাদশ শ্রেণি

অধ্যায়-৩ : জটিল সংখ্যা

❖ জটিল সংখ্যা :

$a + ib$ আকারের সংখ্যাকে জটিল সংখ্যা বলে, যেখানে a ও b বাস্তব সংখ্যা, i কাল্পনিক একক এবং $i = \sqrt{-1}$ । জটিল সংখ্যার সেটকে C দ্বারা প্রকাশ করা হয়।

- যদি $z = a + ib$ হয়, তবে a কে z এর বাস্তব অংশ বা $\text{Re}(z)$ বলা হয়। অর্থাৎ $\text{Re}(z) = a$
- যদি $z = a + ib$ হয়, তবে b কে z এর কাল্পনিক অংশ বা $\text{Im}(z)$ বলা হয়। অর্থাৎ $\text{Im}(z) = b$
- $a + ib$ জটিল সংখ্যাকে (a,b) ক্রমজোড় আকারেও প্রকাশ করা যায়।

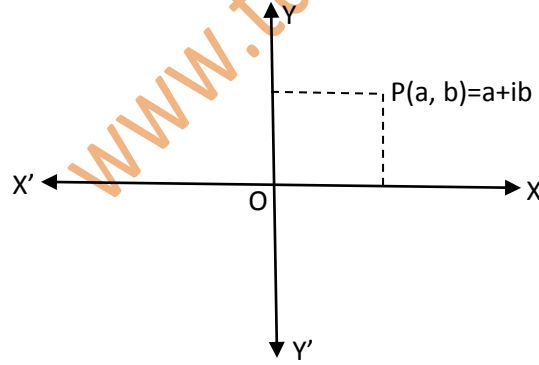
❖ জটিল সংখ্যার জ্যামিতিক প্রতিলিপ বা আর্গন্ড চিত্র :

$a + ib$ জটিল সংখ্যার ক্রমজোড় (a,b) কে বিন্দু হিসেবে বিবেচনা করে কার্তেসীয় তলে স্থাপন করা যায়।

কার্তেসীয় তলে জটিল সংখ্যার অবস্থান নির্দেশক চিত্রকে আর্গন্ড চিত্র বলা হয়।

এক্ষেত্রে x অক্ষকে বাস্তব অক্ষ এবং y অক্ষকে কাল্পনিক অক্ষ বিবেচনা করা হয়।

- $a + ib$ জটিল সংখ্যার আর্গন্ড চিত্র নিম্নে দেওয়া হলো :



❖ জটিল সংখ্যার পোলার আকার :

মনেকরি, $z = x + iy$ একটি জটিল সংখ্যা যার প্রতিলিপ $p(x,y)$ ।

এখন p এর পোলার স্থানাঙ্ক (r,θ) হলে, আমরা পাই, $x = r\cos\theta$ এবং $y = r\sin\theta$ ।

$$\text{সুতরাং } z = x + iy$$

$$= r\cos\theta + r\sin\theta$$

$$= r(\cos\theta + i\sin\theta) \text{ যা } z \text{ এর পোলার আকার।}$$

❖ জটিল সংখ্যার পরমমান (বা, মডুলাস) এবং নতি (বা, আর্গুমেন্ট) :

মনেকরি, $z = x + iy$ একটি জটিল সংখ্যা যার প্রতিক্রম $P(x,y)$ । ধরি, P এর পোলার স্থানাংক (r, θ) । তাহলে,

$OP = r$ এবং $\angle XOP = \theta$ । এখন, $OP = r = \sqrt{x^2 + y^2}$ কে z এর পরমমান বা মডুলাস বলা হয়। জ্যামিতিকভাবে z এর পরমমান বলতে মূলবিন্দু থেকে z এর দূরত্বকে বুঝানো হয়।

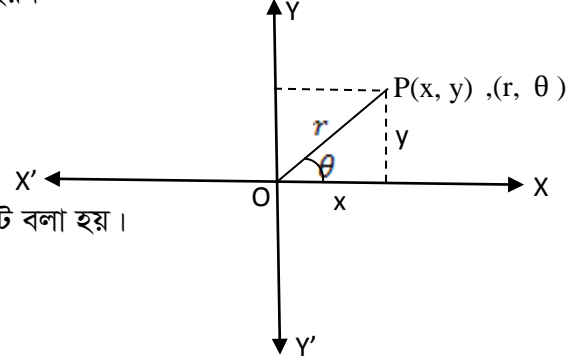
অর্থাৎ, $|z| = r = \sqrt{x^2 + y^2}$ ।

এখন, চিত্র হতে পাই, $x = r \cos \theta$ এবং $y = r \sin \theta$

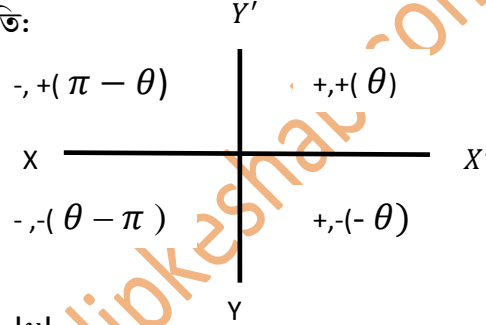
$\therefore \tan \theta = \frac{y}{x} \Rightarrow \theta = \tan^{-1} \frac{y}{x}$ কে z এর নতি বা আর্গুমেন্ট বলা হয়।

ইহাকে $\arg z$ দ্বারা প্রকাশ করা হয়।

অর্থাৎ, $\arg z = \theta = \tan^{-1} \frac{y}{x}$ ।



❖ আর্গুমেন্ট বের করার পদ্ধতি:



জটিল সংখ্যাটি থেকে প্রথমে $\theta = \tan^{-1} \left| \frac{y}{x} \right|$ বের করতে হবে। তারপর বিন্দুর অবস্থান অনুযায়ী আর্গুমেন্ট বের করতে হবে। যেমন:

- $Z = x + iy$ হলে অর্থাৎ, বিন্দুর অবস্থান ১ম চতুর্ভাগে অবস্থিত হলে $\arg Z = \theta$
- $Z = -x + iy$ হলে অর্থাৎ, বিন্দুর অবস্থান ২য় চতুর্ভাগে অবস্থিত হলে $\arg Z = \pi - \theta$
- $Z = -x - iy$ হলে অর্থাৎ, বিন্দুর অবস্থান ৩য় চতুর্ভাগে অবস্থিত হলে $\arg Z = \theta - \pi$
- $Z = x - iy$ হলে অর্থাৎ, বিন্দুর অবস্থান ৪য় চতুর্ভাগে অবস্থিত হলে $\arg Z = -\theta$

❖ জটিল সংখ্যার অনুবন্ধী :

যদি দুটি জটিল সংখ্যার গুণফল বাস্তব সংখ্যা হয়, তবে তারা একে অপরের অনুবন্ধী।

যেমন : $a + ib$ জটিল সংখ্যাটির অনুবন্ধী জটিল সংখ্যা হচ্ছে $a - ib$ । কারণ $(a + ib)(a - ib) = a^2 - i^2 b^2 = a^2 + b^2$, যাহা বাস্তব সংখ্যা।

যদি z কোন জটিল সংখ্যা হয়, তবে তার অনুবন্ধীকে \bar{z} দ্বারা প্রকাশ করা হয়।

- দুইটি অনুবন্ধী জটিল সংখ্যা z এবং \bar{z} এর সমষ্টি $(z + \bar{z})$ এবং গুণফল $(z\bar{z})$ উভয়ে বাস্তব সংখ্যা।
- দুইটি অনুবন্ধী জটিল সংখ্যা এবং এর বিয়োগফল $(z - \bar{z})$ এবং গুণফল $(\frac{z}{\bar{z}})$ উভয়ে জটিল সংখ্যা।

❖ জটিল সংখ্যার পরম মান(বা, মডুলাস) ও অনুবন্ধী সংক্রান্ত ধর্ম :

i. $|z| = |\bar{z}|$

ii. $|z|^2 = z\bar{z}$

iii. $|z| \geq \text{Re}(z)$

iv. $|z_1 \bar{z}_2| = |z_1| |\bar{z}_2| = |z_1| |z_2|$

v. $\overline{z_1 + z_2} = \bar{z}_1 + \bar{z}_2$

vi. $\left| \frac{z_1}{z_2} \right| = \frac{|z_1|}{|z_2|}$

vii. $|z_1 + z_2| \leq |z_1| + |z_2|$

viii. $|z_1 - z_2| \geq |z_1| - |z_2|$

❖ কাল্পনিক একক i এর ঘাত : $i = \sqrt{-1}$; $i^2 = -1$

- $i^3 = i^2 \cdot i = -1 \cdot i = -i$
- $i^4 = i^2 \cdot i^2 = -1 \cdot -1 = 1$
- $i^5 = i^2 \cdot i^2 \cdot i = -1 \cdot -1 \cdot i = i$

❖ 1(একক)এর ঘনমূল নির্ণয় অর্থাৎ $\sqrt[3]{1}$ এর মান নির্ণয়

মনেকরি, $\sqrt[3]{1} = x$

$\Rightarrow 1 = x^3$ (ঘন করে)

$\Rightarrow x^3 = 1$

$\Rightarrow x^3 - 1 = 0$

$\Rightarrow (x - 1)(x^2 + x + 1) = 0$

হয়, $x - 1 = 0 \Rightarrow x = 1$

অথবা, $x^2 + x + 1 = 0 \Rightarrow x = \frac{-1 \pm \sqrt{1 - 4 \cdot 1 \cdot 1}}{2} = \frac{-1 \pm \sqrt{-3}}{2} = \frac{-1 \pm i\sqrt{3}}{2}$

সুতরাং x এর মান সমূহ $1, \frac{-1 + i\sqrt{3}}{2}, \frac{-1 - i\sqrt{3}}{2}$

অর্থাৎ, 1(একক) এর ঘনমূল সমূহ হচ্ছে, $1, \frac{-1 + i\sqrt{3}}{2}, \frac{-1 - i\sqrt{3}}{2}$ ।

- 1(একক) এর ঘনমূল তিনটির মধ্যে একটি বাস্তব এবং অপর দুটি জটিল এবং পরস্পর অনুবন্ধী ।
- জটিল ঘনমূল দুটির একটিকে বর্গ করলে অপরটির পাওয়া যায় ।
- সুতরাং তাদের ω একটি হলে অপরটি ω^2 হবে । অতএব 1 (একক)এর ঘনমূল সমূহ হচ্ছে $1, \omega, \omega^2$ ।

❖ 1(একক) এর ঘনমূল গুলোর ধর্ম :

i. ঘনমূল তিনটির সমষ্টি শূন্য । অর্থাৎ $1 + \omega + \omega^2 = 0$

ii. জটিল ঘনমূল দুটির সমষ্টি -1 । অর্থাৎ $\omega + \omega^2 = -1$

iii. ঘনমূল তিনটির গুণফল 1 । অর্থাৎ $\omega^3 = 1$

- ❖ $\omega^4 = \omega^3 \cdot \omega = 1 \cdot \omega = \omega$
- ❖ $\omega^5 = \omega^3 \cdot \omega^2 = 1 \cdot \omega^2 = \omega^2$
- ❖ $\omega^6 = \omega^3 \cdot \omega^3 = 1 \cdot 1 = 1$
- ❖ $\omega^7 = \omega^3 \cdot \omega^3 \cdot \omega = \omega$

www.tulipkeshab.com